

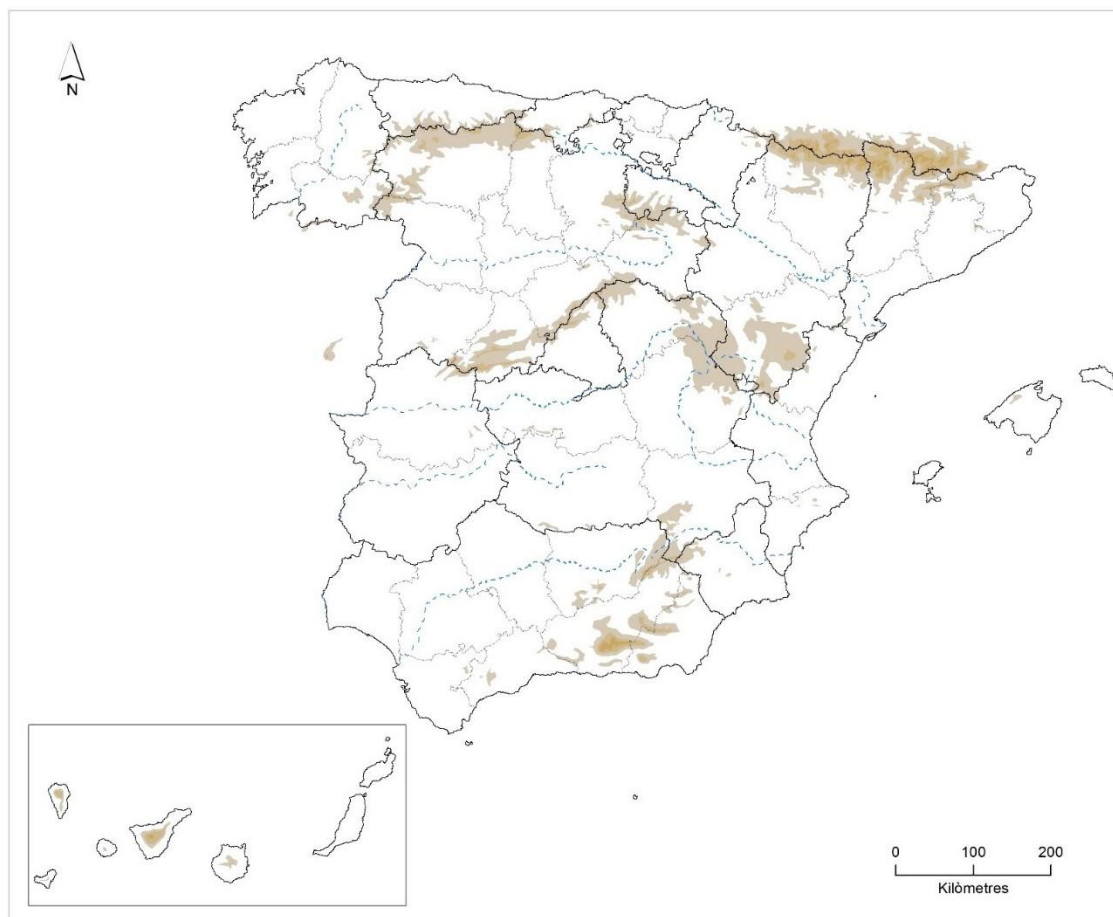


Aferrau la capçalera d'examen
un cop acabat l'exercici

Part 1

1. Distingiu al mapa adjunt tres àrees especialitzades en conreu de vinya i dues zones humides o llacunes.

(Identificau els elements que es demanen, assenyalau-los al mapa, acolorint-los o amb símbols convencionals i amb el nom localitzat sobre l'indret. Afegiu la llegenda i alguna nota explicativa breu al rectangle en blanc.)



Puntuació màxima 2,5 punts

Part 2 (Tria una de les dues opcions i desenvolupa-la)

Puntuació màxima 2,5 punts

OPCIÓ A. Comentau, contestant les qüestions plantejades, la taula següent referida a la precipitació mitjana mensual i total anual, expressada en mm, en diversos observatoris en el període 1981-2010. *(L'espai per a la resposta és aquest full i la cara posterior. La resposta ha de ser raonada i reforçada amb valors numèrics. Cal indicar clarament el número de la qüestió que es respon. La coherència, cohesió, correcció gramatical, lèxica i ortogràfica dels textos produïts, així com la presentació es valoren amb 0,25 punts)*

Mesos	G	F	M	A	M	J	Jl	A	S	O	N	D	Total anual
Almeria	24	25	16	17	12	5	1	1	14	27	28	30	200
Cadis	69	58	35	45	27	7	0	2	24	67	98	92	523
Lanzarote	16	18	12	5	2	0	0	0	2	10	15	29	111
Santander	106	92	88	102	78	58	52	73	83	120	157	118	1.129

Font: AEMET

1. Quins són els mesos més plujosos i més secs als diversos observatoris? *(0,50 punts)*
2. A quins tipus de clima corresponen els observatoris? Quines característiques pluviomètriques tenen? *(0,50 punts)*
3. Quins són els principals motius geogràfics que expliquen les grans diferències que s'aprecien entre els diferents observatoris, tant pel que fa al total anual com a la distribució mensual de les precipitacions? *(0,75 punts)*
4. Tria un dels tres termes següents i definiu-lo: desertització, aridesa, recursos hídrics *(0,5 punts)*



Universitat
de les Illes Balears

Proves d'accés
a la Universitat

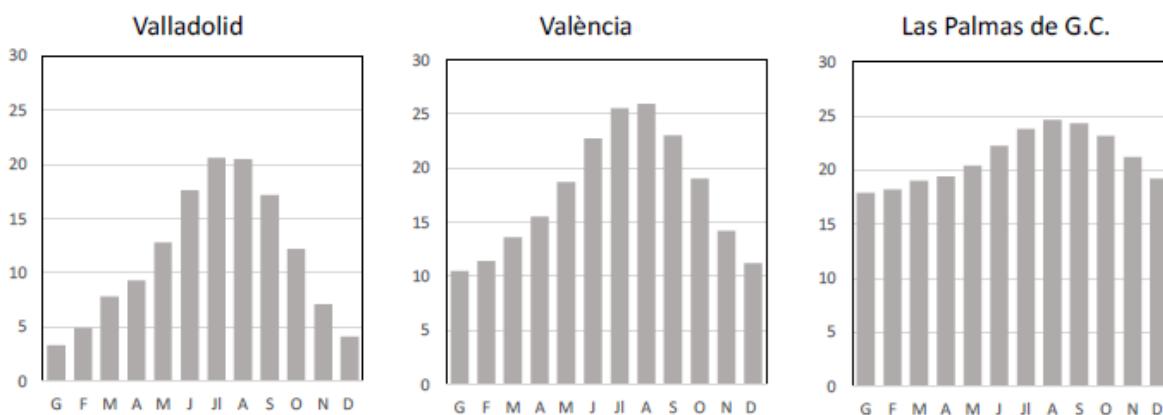
Geografia

Part 2 (Tria una de les dues opcions i desenvolupa-la)

Puntuació màxima 2,5 punts

OPCIÓ B. Comentau, contestant les qüestions plantejades, el gràfic següent, referit a la distribució de les temperatures mitjanes mensuals (expressades en graus centígrads) en tres observatoris, a partir de la sèrie de 1980 a 2010.

(L'espai per a la resposta és aquest full i la cara posterior. La resposta ha de ser raonada i reforçada amb valors numèrics. Cal indicar clarament el número de la qüestió que es respon. La coherència, cohesió, correcció gramatical, lèxica i ortogràfica dels textos produïts, així com la presentació es valoren amb 0,25 punts)



Font: AEMET

1. Quins són els mesos més freds i més càlids en cada un dels observatoris? Quina és la seva amplitud tèrmica anual? (0,50 punts)
2. A quins tipus de clima corresponen cada una de les distribucions de temperatures presents i quines són les característiques de cada un d'aquests climes? (0,5 punts)
3. Quines conseqüències per a la vegetació tenen les condicions climàtiques de cada un d'aquests indrets? (0,75 punts)
4. Escull un dels tres termes següents i defineix-lo: endemisme, pis o estatge de vegetació, albufera (0,5 punts)



Universitat
de les Illes Balears

Proves d'accés
a la Universitat

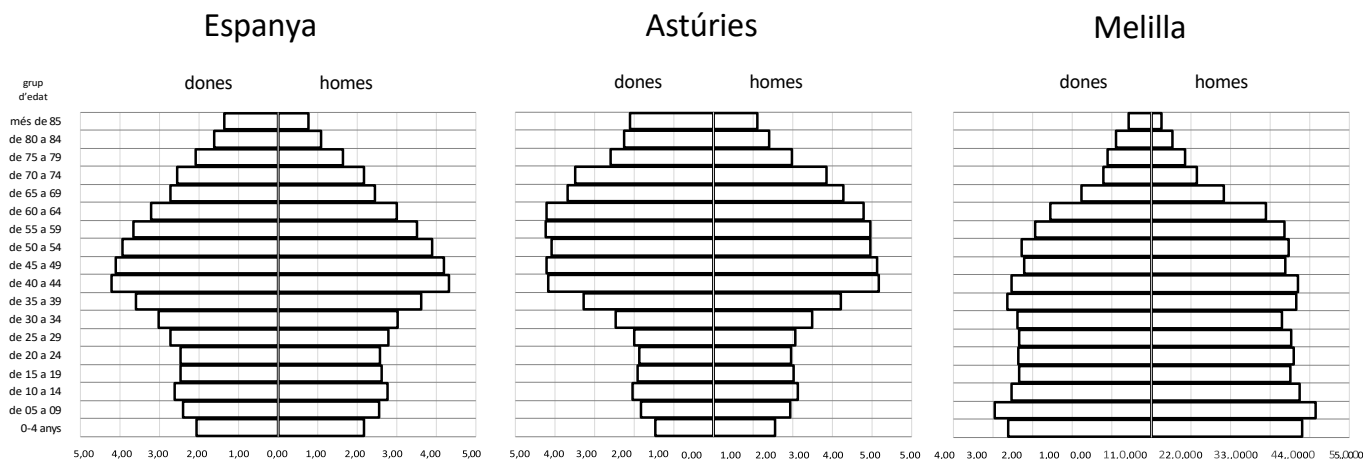
Geografia

Part 3 (Escolliu una de les dues opcions i desenvolueu-la)

Puntuació màxima 2,5 punts

OPCIÓ A. Comentau, contestant les qüestions plantejades, els gràfics següents, corresponents a la distribució de la població per sexe i grup quinquennal d'edat en diversos àmbits territorials.

(L'espai per a la resposta és aquest full i la cara posterior. La resposta ha de ser raonada i reforçada amb valors numèrics. Cal indicar clarament el número de la qüestió que es respon. La coherència, cohesió, correcció gramatical, lèxica i ortogràfica dels textos produïts, així com la presentació es valoren amb 0,25 punts)



Font de les dades: Instituto Nacional de Estadística (INE)

1. Com s'anomena aquest tipus de gràfic de representació de la població distribuïda segons el sexe i el grup d'edat? (0,50 punts)
2. Quines diferències s'aprecien en la distribució de la població per edats entre els territoris assenyalats? (0,5 punts)
3. Quins són els motius que expliquen les diferències que s'aprecien entre aquestes entitats territorials? (0,75 punts)
4. Triau un dels tres termes següents i definiu-lo: cens, taxa de fecunditat, cicle demogràfic modern (0,5 punts)



Universitat
de les Illes Balears

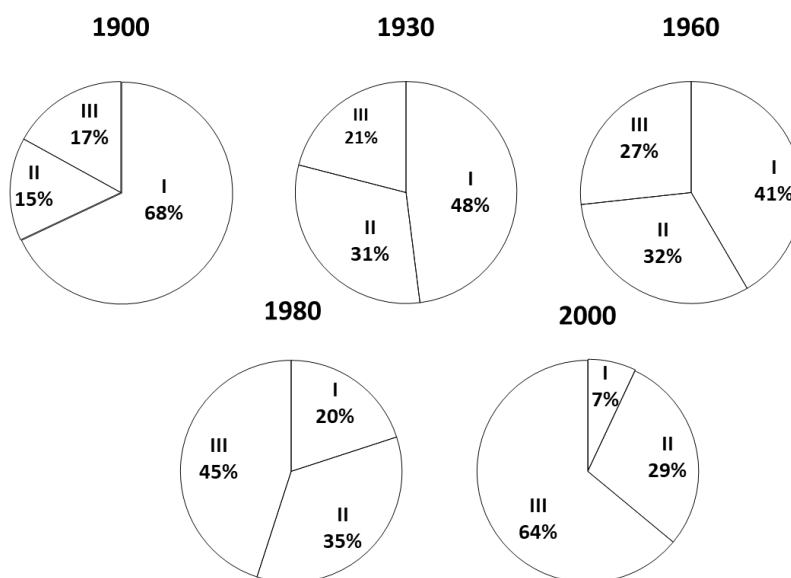
Proves d'accés
a la Universitat

Geografia

Part 3 (Tria una de les dues opcions i desenvolupau-la)

Puntuació màxima 2,5 punts

OPCIÓ B. Comentau, contestant les qüestions plantejades, aquests gràfics corresponents a la distribució percentual de la població activa espanyola per sectors de producció entre els anys 1900 i 2000. (L'espai per a la resposta és aquest full i la cara posterior. La resposta ha de ser raonada i reforçada amb valors numèrics. Cal indicar clarament el número de la qüestió que es respon. La coherència, cohesió, correcció gramatical, lèxica i ortogràfica dels textos produïts, així com la presentació es valoren amb 0,25 punts)



Fonts estadístiques diverses

1. Quina ha estat l'evolució general del pes dels diferents subsectors econòmics al llarg del segle XX? (0,50 punts)
2. Quines fases es poden establir en aquesta evolució? Es tracta d'un procés que sempre ha seguit la mateixa tendència? (0,50 punts)
3. Quins motius expliquen els canvis observats? (0,75 punts)
4. Tria un dels tres termes següents i definiu-lo: població activa, taxa d'atur, sector terciari (0,5 punts)



Universitat
de les Illes Balears

Proves d'accés
a la Universitat

Geografia

Part 4 (Tria una de les dues opcions i desenvolupa-la)

Puntuació màxima 2,5 punts

OPCIÓ A. Comentau, contestant les qüestions plantejades, el text següent.

(L'espai per a la resposta és aquest full i la cara posterior. La resposta ha de ser raonada i reforçada amb valors numèrics. Cal indicar clarament el número de la qüestió que es respon. La coherència, cohesió, correcció gramatical, lèxica i ortogràfica dels textos produïts, així com la presentació es valoren amb 0,25 punts)

L'ingrés d'Espanya a la Comunitat Europea es va produir en el moment en què la Comunitat havia decidit revisar a fons la seva política agrària, per mor de les disfuncionalitats que havien sorgit a conseqüència d'una excessiva i costosa protecció de l'agricultor; en alguns moments, la política agrària comuna va arribar a tenir despeses que suposaven entre un 60 i un 65 % del pressupost comunitari.

Inicialment, la política de l'Europa comunitària va originar un mercat agrari comú amb capacitat d'autoabastir-se i exportar, mitjançant la protecció a l'agricultor amb uns preus alts i subvencions. A partir dels anys setanta, Europa va anar acumulant enormes quantitats d'excedents: cereals, vi, llet, mantega, carn de vacum...

La política agrària comuna aplicada a partir de la dècada de 1980 es va basar a mantenir l'agricultura com a forma de preservar el medi ambient, i destacava la necessitat d'estimular la competitivitat de l'agricultura mitjançant un mecanisme de preus modulats per regions o qualitats de terra i d'ajuts directes que compensassin les pèrdues de renda dels agricultors europeus en el context internacional. Això s'instrumentalitzava mitjançant unes quotes de producció per països i conreus, subvencionats mentre es mantinguessin en els límits marcats, i penalitzats en superar-los.

El resultat ha estat una desorientació dels agricultors: allò que produeix l'agricultura no té mercat, es diu als agricultors que han de produir menys i que han d'extensificar els conreus, els subvencionen per restar en un món rural empobrit en el qual han de continuar presents per conservar la natura i preservar una civilització mil·lenària.

(F. Molinero, modificat)

1. A quin procés d'integració plurinacional fa referència el text? (0,50 punts)
2. Arran de quins acords havia sorgit aquesta entitat econòmica i política europea? Quins en foren els països fundacionals? (0,50 punts)
3. Com ha evolucionat aquesta comunitat econòmica de diversos països fins a esdevenir una entitat política plurinacional? (0,75 punts)
4. Tria un dels tres termes següents i definiu-lo: fons europeus, política agrària comuna (PAC), conreus transgènics (0,5 punts)



Universitat
de les Illes Balears

Proves d'accés
a la Universitat

Geografia

Part 4 (Tria una de les dues opcions i desenvolupau-la)

Puntuació màxima 2,5 punts

OPCIÓ B. Comentau, contestant les qüestions plantejades, la taula estadística següent, referida a l'evolució percentual dels diversos orígens de l'energia consumida a Espanya.

(L'espai per a la resposta és aquest full i la cara posterior. La resposta ha de ser raonada i reforçada amb valors numèrics. Cal indicar clarament el número de la qüestió que es respon. La coherència, cohesió, correcció gramatical, lèxica i ortogràfica dels textos produïts, així com la presentació es valoren amb 0,25 punts)

Distribució (%) de l'energia consumida a Espanya segons orígens

	carbó	petroli	gas natural	nuclear	renovables
1980	19,4	72,7	2,2	2	3,7
1990	21,6	54,1	5,7	16,1	2,5
2000	18,3	53,3	12,5	13,4	2,5
2010	5,6	46,7	23,8	12,3	11,6
2020	2,8	41,4	25,3	13,8	16,7

Font: Ministeri per a la Transició Ecològica i el Repte Demogràfic

1. Quins han estat els orígens predominants de l'energia consumida a Espanya entre els anys 1980 i 2020? (0,50 punts)
2. Quina evolució ha seguit la utilització de les energies no derivades de combustibles fòssils? (0,50 punts)
3. Quines conseqüències ambientals i econòmiques han tingut les fonts d'energia que han predominat abans de 2010? (0,75 punts)
4. Tria un dels tres termes següents i definiu-lo: matèria primera, residus urbans, deslocalització industrial (0,5 punts)



**Aferrau una etiqueta identificativa
amb codi de barres**

